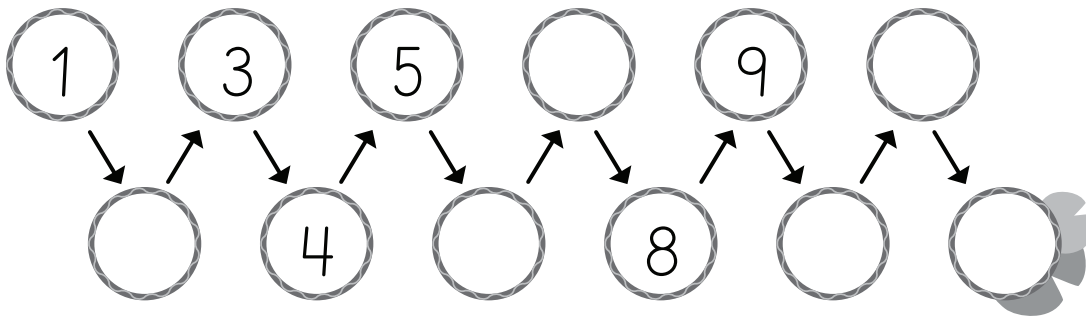


FECHA: \_\_\_\_\_ NOMBRE: \_\_\_\_\_

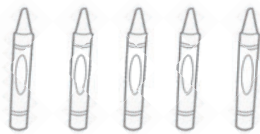
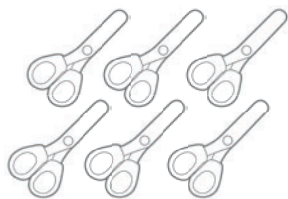
1 **ESCRIBÍ** CUÁNTOS LÁPICES TIENE CADA LAPICERO Y **RODEÁ** EL QUE TIENE MÁS.



2 **COMPLETÁ** LOS NÚMEROS QUE FALTAN.



3 **UNÍ** CADA CONJUNTO DE ÚTILES CON EL NÚMERO QUE CORRESPONDE.



FECHA: \_\_\_\_\_ NOMBRE: \_\_\_\_\_

**1 COMPLETÁ EL CUADRO.**

1 MENOS	NÚMERO	1 MÁS
	3	
	19	
	8	
	16	

**2 AGREGÁ LOS NÚMEROS QUE FALTAN EN ESTOS CÁLCULOS.**

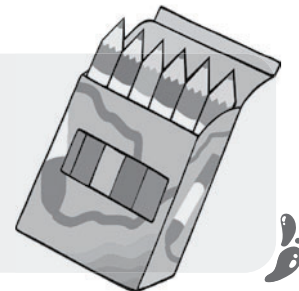
$$\boxed{4} + \boxed{3} = \boxed{\phantom{00}}$$

$$\boxed{6} + \boxed{\phantom{00}} = \boxed{10}$$

$$\boxed{\phantom{00}} + \boxed{5} = \boxed{7}$$

**3 RESOLVÉ.**

EN LA CARTUCHERA FACU TIENE 3 LÁPICES NEGROS Y 6 LÁPICES DE COLORES.  
¿CUÁNTOS LÁPICES TIENE EN TOTAL?



RESPUESTA: \_\_\_\_\_

FECHA: \_\_\_\_\_ NOMBRE: \_\_\_\_\_

- 1 ANDRÉS QUIERE COMPRARSE UNA LAPICERA. **CONTÁ** LOS BILLETES Y MONEDAS Y **ESCRIBÍ** LA CANTIDAD DE DINERO QUE JUNTÓ.




RESPUESTA: .....

- 2 **DIBUJÁ** LOS BILLETES Y MONEDAS QUE TIENE LOLA Y **ESCRIBÍ** EN NÚMEROS CUÁNTO AHORRÓ FACU.



- 3 **COMPLETÁ** LA GUARDA SIGUIENDO EL EJEMPLO Y **RESPONDÉ**.



¿CÓMO SON LOS LADOS DE CADA FIGURA?

.....

FECHA: \_\_\_\_\_ NOMBRE: \_\_\_\_\_

1 **COMPLETÁ** EL CUADRO Y **PINTÁ** LOS NÚMEROS QUE SE INDICAN.

1	2	3	4	5	6	7	8	9	10
11	12		14	15	16	17	18	19	20
21	22	23	24	25	26		28	29	
31	32	33	34	35	36	37		39	40
	42	43		45	46	47	48	49	50
51	52	53	54		56	57	58		60

QUINCE

CUARENTA

VEINTITRÉS

CINCUENTA  
Y SIETETODOS LOS NÚMEROS QUE  
ESTÁN ENTRE EL 12 Y EL 28

2 **COMPLETÁ** CON EL NOMBRE Y EL NÚMERO DEL DÍA CORRESPONDIENTE EN CADA CASO.

AYER FUE: ..... HOY ES: .....

MAÑANA SERÁ: .....

3 **RODEÁ** LA OPCIÓN CORRECTA.

UN AÑO TIENE 12 / 7 MESES.

EL MES MÁS LARGO / CORTO ES FEBRERO.

UNA SEMANA TIENE 7 / 5 DÍAS.

FECHA: \_\_\_\_\_ NOMBRE: \_\_\_\_\_

1 **ORDENÁ** DE MENOR A MAYOR.



2 **COMPLETÁ** CON LOS NÚMEROS QUE FALTAN.

60									
70									
80									
90									
100									

ESCRIBÍ **SÍ** O **NO** EN CADA ORACIÓN.

EL 64 ESTÁ EN LA FILA DE LOS QUE EMPIEZAN CON 4.

EL 98 ESTÁ EN EL CRUCE DE LOS QUE EMPIEZAN CON 9

Y LA COLUMNA DE LOS QUE TERMINAN EN 8.

3 **TACHÁ** LOS DATOS INNECESARIOS. **PINTÁ** EL CÁLCULO CORRECTO PARA EL PROBLEMA Y **RESOLVELO** EN HOJA APARTE.

PILAR TIENE 24 MARCADORES QUE CUESTAN \$102. SU TÍA ROSA LE REGALÓ 16 LÁPICES.  
¿CUÁNTOS ÚTILES TIENE EN TOTAL?

$$24 + 102 + 16 =$$


$$24 - 16 =$$

$$24 + 16 =$$

FECHA: \_\_\_\_\_ NOMBRE: \_\_\_\_\_

1 LEÉ LAS PISTAS Y TRAZÁ EL RECORRIDO QUE HIZO LA PELOTA.

- 1 LA PELOTA PEGÓ EN EL ÁRBOL.
- 2 LUEGO EN UNA DE LAS MANOS DEL ARQUERO.
- 3 FINALMENTE, ENTRÓ AL ARCO POR UNO DE LOS ÁNGULOS SUPERIORES. ¡GOL DE JUANI!



2 COMPLETÁ LAS ESCALAS SEGÚN CORRESPONDA.

35	40						
22	42						
70	60						

3 DIBUJÁ LO QUE TIENE CADA CHICO.



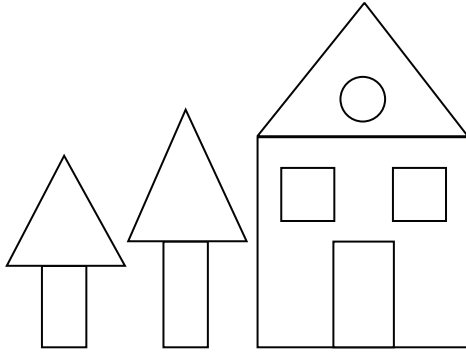
JUAN TIENE 8 LIBROS Y YO TENGO LA MITAD.



ANDREA TIENE 3 FLORES Y YO TENGO EL DOBLE.

FECHA: \_\_\_\_\_ NOMBRE: \_\_\_\_\_

- 1 **CONTÁ** CUÁNTAS FIGURAS DE CADA UNA HAY EN EL DIBUJO Y **ESCRIBÍ** LA CANTIDAD EN LOS RECUADROS.



CÍRCULOS

RECTÁNGULOS

TRIÁNGULOS

CUADRADOS

- 2 **OBSERVÁ** LOS PRECIOS DE LA VERDULERÍA Y **RESPONDÉ**.



○ \$63 EL KILO



○ \$58 EL KILO



○ \$44 EL KILO

¿QUÉ SE PUEDE COMPRAR CON  ? ¿SOBRA DINERO?  
¿CUÁNTO?

.....

¿MATEO COMPRÓ UN KILO DE MANZANAS. **PINTÁ** LOS CÁLCULOS QUE TENGAN ESE PRECIO COMO RESULTADO.

.....

$45 + 7 =$



$11 + 52 =$



$30 + 33 =$



$13 + 60 =$



FECHA: \_\_\_\_\_ NOMBRE: \_\_\_\_\_

1 **COMPLETÁ** LA TABLA Y **RESPONDÉ** LAS PREGUNTAS.

OBSERVACIÓN DE ESTRELLAS CON EL TELESCOPIO				
	ROCÍO	JOAQUÍN	AZUL	EZEQUIEL
ESTRELLAS GRANDES	75	34	58	63
ESTRELLAS PEQUEÑAS	7	42	35	11
TOTAL				

¿QUIÉN OBSERVÓ MÁS ESTRELLAS PEQUEÑAS?

-----

¿QUIÉN OBSERVÓ MÁS ESTRELLAS EN TOTAL?

-----

2 **RESOLVÉ** ESTOS PROBLEMAS EN UNA HOJA APARTE. **ESCRIBÍ** UN CÁLCULO O **HACÉ** UN DIBUJO PARA EXPLICAR CÓMO LOS PENSASTE.

LA SEÑO TIENE 15 HOJAS DE COLOR PARA REPARTIR ENTRE 5 GRUPOS, ¿CUÁNTAS RECIBIRÁ CADA UNO?

FACU GUARDÓ 4 REMERAS EN CADA CAJÓN. SI EL ARMARIO TIENE 3 CAJONES, ¿CUÁNTAS REMERAS TIENE EN TOTAL?

3 **RESPONDÉ** CON **SÍ** O **NO**.

UNA BOTELLA DE 1 LITRO DE AGUA TIENE EL DOBLE DE UNA DE 2 LITROS.

UNA BOTELLA DE MEDIO LITRO TIENE MENOS CAPACIDAD QUE UNA DE 1 LITRO.